


分数

名前 ()

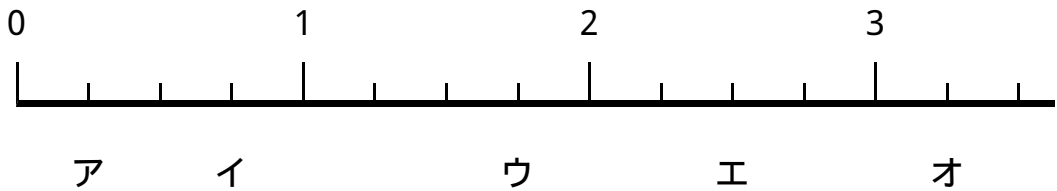


1 $3\frac{1}{4}$ の読み方を漢字とひらがなを使って書きなさい。
()

2 $\frac{1}{4}$ や $\frac{3}{4}$ のように、分子が分母より小さい分数を何と言う？
()

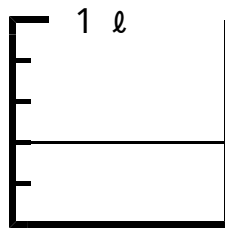
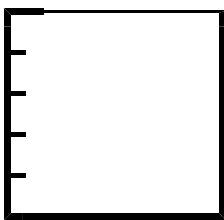
3 $1\frac{1}{4}$ や $2\frac{3}{4}$ のように、整数と真分数の和で表されている
分数を何と言う？
()

4 , 下の数直線で、ア～オのめもりが表す数を分数で書きなさい。



ア () イ () ウ () エ () オ ()

5 , 下の図のかさや長さを分数を使って表しなさい。



()



1 m

1 m

()