


分数

名前 ()



1, $3\frac{1}{4}$ の読み方を漢字とひらがなを使って書きなさい。

(3 と 4 分の 1)

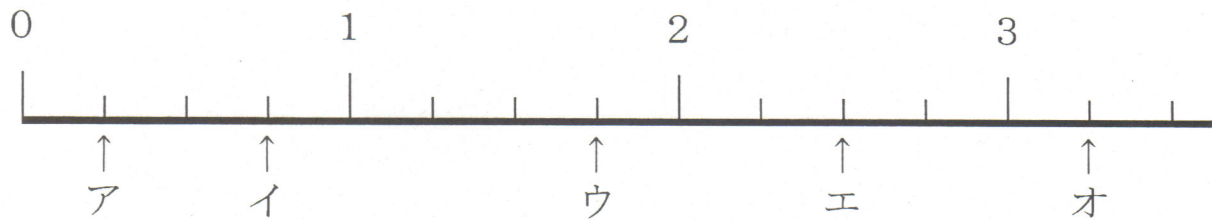
2, $\frac{1}{4}$ や $\frac{3}{4}$ のように、分子が分母より小さい分数を何と言う？

(真分数)

3, $1\frac{1}{4}$ や $2\frac{3}{4}$ のように、整数と真分数の和で表されている分数を何と言う？

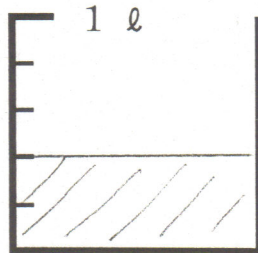
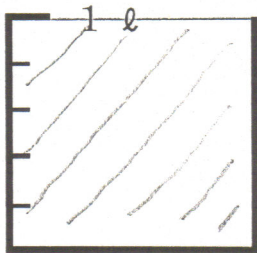
(帯分数)

4, 下の数直線で、ア～オのめもりが表す数を分数で書きなさい。



ア ($\frac{1}{4}$) イ ($\frac{3}{4}$) ウ ($1\frac{3}{4}$) エ ($2\frac{2}{4}$) オ ($3\frac{1}{4}$)

5, 下の図のかさや長さを分数を使って表しなさい。



($1\frac{2}{5}l$)



1 m

1 m

($1\frac{5}{8}m$)